

明新科技大學 機械工程系

甄選入學實作測驗**三選一**
請點選下方**QR code**區域

甄選實作測驗三選一：游標卡尺、機械視圖、三用電表

游標卡尺量測

(長度, 外徑, 內徑, 深度等)



<https://goo.gl/QxM2Hy>

工件畫出二視圖

(由立體圖繪製三視圖)



<https://goo.gl/N2ZSPF>

三用電表量測

(繼電器線圈與接點量測、電阻電壓量測等)



<https://goo.gl/PQLWgS>

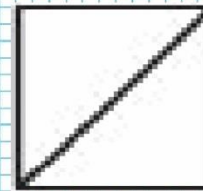
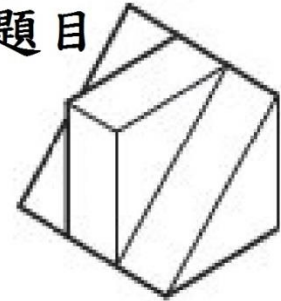
明新科大機械系 甄選入學 實作測驗 三選一



三視圖答案示意圖



題目



游標卡尺答案

1. 大 D:	14.16
2. 小 D:	12.94
3. 孔徑(Φ)	8.04
4. 孔深(H_L)	19.40
5. 全長 L	44.96




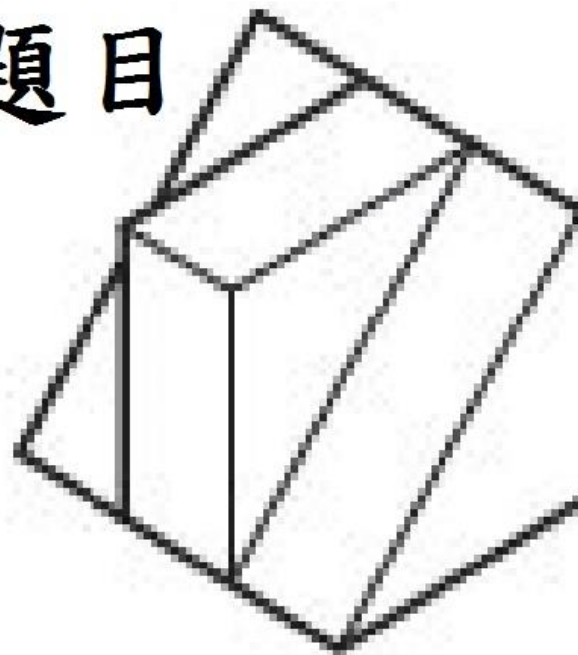


三用電表答案

1. 線圈	1
2. 線圈	3
3. a	2
4. b	5
5. c	4
6. 電阻	0.02K Ω
7. 電壓	1.2V

三視圖答案示意圖

題目



<https://goo.gl/N2ZSPF>

游標卡尺實作



<https://igoo.gl/QxM2Hy>

游標卡尺答案

1. 大 D:	14.16
2. 小 D:	12.94
3. 孔徑(Φ)	8.04
4. 孔深(H_L)	19.40
5. 全長 L	44.96

三用電表



<https://goo.gl/PQLWgS>

三用電表答案

1. 線圈	1
2. 線圈	3
3. a	2
4. b	5
5. c	4
6. 電阻	0.02K Ω
7. 電壓	1.2V